

Рекомендации родителям (законным представителям) по реализации занятий в период карантина воспитанников подготовительной к школе группы (6 - 7 лет) с 12 по 15 мая 2020 года

Зачеркни лишнее



Реши примеры.

$5 + \text{sun} = 11$

$\text{sun} + 10 = 20$

$\text{sun} - 3 = 11$

$12 - \text{sun} = 10$

The illustration shows a garden scene with various flowers (red, orange, blue, purple) and butterflies. The sun is represented by a yellow circle with rays.


Сколько ушей у трёх малышей?



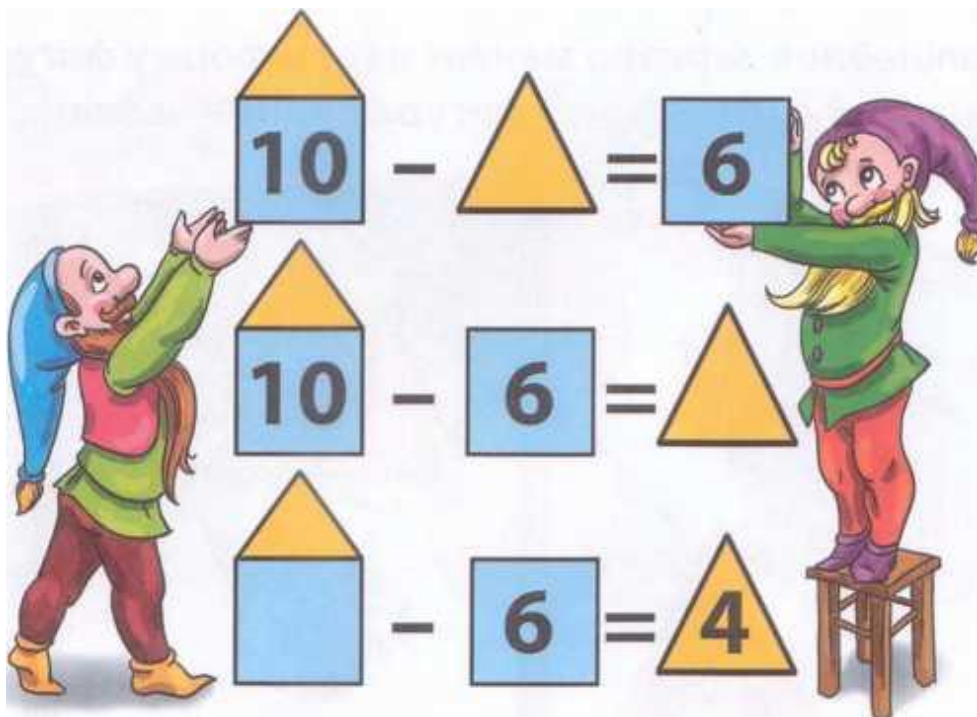
Запиши счёт двойками до десяти.

2 4

Покажи 8 треугольников.



Реши примеры

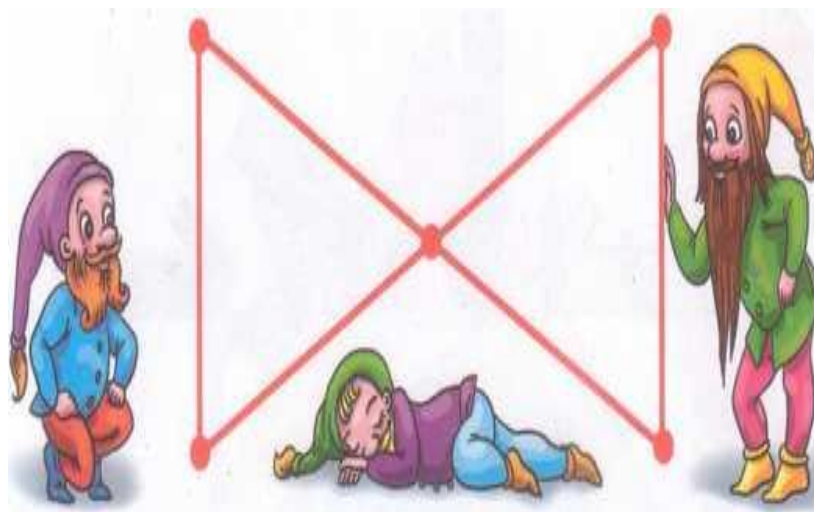


Запиши обратный счёт двойками.

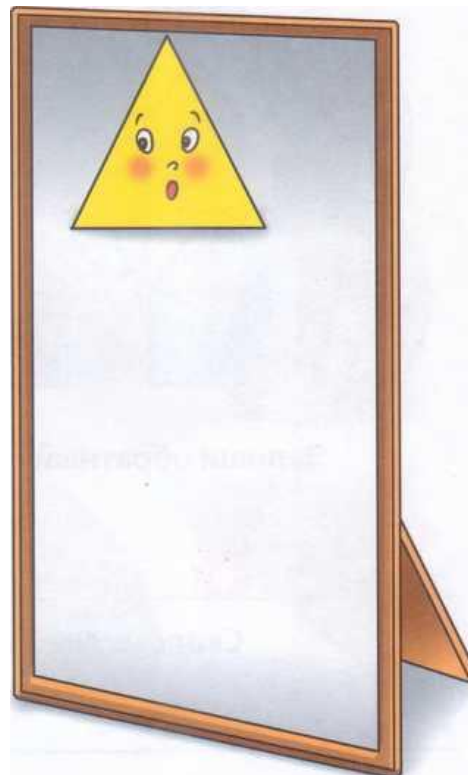

10 8

Сколько дней в неделе? _____

Покажи 8 отрезков.




Волшебное зеркало меняет цвет и форму фигур.
Нарисуй, что каждая фигура видит в зеркале.



Рекомендации родителям (законным представителям) по реализации занятий в период карантина воспитанников подготовительной к школе группы (6 - 7 лет) с 18 по 22 мая 2020 года

Догадайся, какие числа художник забыл нарисовать на лепестках?
Нарисуй их.



Запиши счёт тройками до 12.

Сколько часов в одних сутках? _____

Сколько минут в одном часе? _____


Раскрась все пирамидки красным, зелёным и синим цветами, чтобы не было двух



Из Васиного кармана выпрыгнули две лягушки, а три остались сидеть в кармане. Сколько всего лягушек сидело в Васином кармане?



Раскрась одним цветом фигуру и её вид сверху



Соедини примеры с одинаковыми ответами

